

Praktis SPM

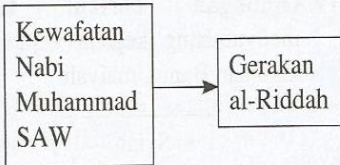
Soalan Objektif

Pilih jawapan yang paling tepat untuk soalan-soalan di bawah ini.

6.1

Kerajaan Khulafa-al-Rasyidin

1 Apakah yang dapat dikaitkan dengan gerakan berikut?



- I Nabi palsu
- II Golongan murtad
- III Tentera ke Rom
- IV Melantik khalifah baharu
- A I dan II C II dan III
- B I dan IV D III dan IV

2 Senarai berikut berkaitan dengan kaedah yang diamalkan dalam kepimpinan Islam selepas kewafatan Nabi Muhammad SAW.

- Musyawarah
- Cadangan nama
- Pemilihan calon
- Pencalonan sekelompok

Kaedah tersebut berkaitan dengan

- A Pentadbiran Madinah
- B Pemilihan jawatan gabenor
- C Pelantikan Khalifah Khulafa al-Rasyidin
- D Proses mengangkat sumpah khalifah

3 Manakah antara sumbangan Khalifah Abu Bakar al-Siddiq?

- I Membayar gaji untuk hakim
- II Menubuhkan Diwanul Jundi
- III Membayar gaji untuk tentera
- IV Mengumpulkan tulisan al-Quran

- A I dan II C II dan III
- B I dan IV D III dan IV

4 Mengapakah Khalifah Umar al-Khattab memisahkan Jabatan Kehakiman dengan jabatan-jabatan lain?

- A Memastikan keadilan
- B Mengelakkan salah laku hakim
- C Mengelakkan campur tangan jabatan lain
- D Memberi peluang hakim menumpukan tugasnya

5 Jadual berikut menunjukkan cukai semasa pemerintahan Umar al-Khattab.

Sistem cukai semasa pemerintahan Khalifah Umar al-Khattab		
Jizyah	Kharaj	Zakat

Cukai Kharaj yang dikenakan adalah berdasarkan

- I Jenis tanaman
- II Keluasan ladang
- III Mengikut kaum
- IV Kesuburan tanah
- A I dan II
- B I dan IV
- C II dan III
- D III dan IV

6 Apakah tujuan Khalifah Umar membina empangan dan terusan berikut?

- Empangan Abu Musa di Basrah
- Terusan Amirul Mukminin

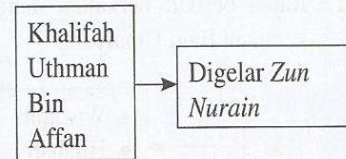
- A Meningkatkan hasil pertanian
- B Memudahkan urusan perjalanan

- C Memastikan bekalan air yang cukup
- D Mengadakan sumber kuasa hidro

7 Cukai Jizyah dikenakan terhadap golongan

- A Mawali C Arab
- B Zimmi D Hadari

8 Rajah berikut menunjukkan gelaran Khalifah Uthman bin Affan.



Mengapakah Khalifah Uthman gelaran tersebut?

- A Mempunyai sifat lemah lembut
- B Memiliki dua orang cahaya mata
- C Menjadi utusan di dalam Perjanjian Hudaibiyah
- D Mengahwini dua orang puteri Nabi Muhammad SAW

9 Bagaimanakah pemilihan khalifah dapat ditentukan berdasarkan situasi berikut?

Cara Pemilihan Khulafa al-Rasyidin

Sayidina Uthman bin Affan dan Sayidina Ali bin Abu Talib mendapat undi yang sama banyak

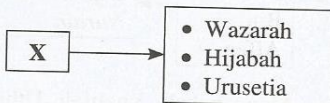
- A Mengundi semula
- B Meninjau pendapat ramai
- C Memilih calon yang lebih tua
- D Menguji kebolehan calon khalifah

- 10 Apakah peranan Baitulmal semasa pemerintahan Khalifah Uthman bin Affan?
- I Membina masjid
 - II Membiayai pembangunan
 - III Membeli peralatan senjata
 - IV Membayar gaji tentera
- A I dan II C II dan III
B I dan IV D III dan IV

6.2 Kerajaan Bani Umayyah

- 11 Mengapakah Sayidina Hasan bin Ali telah menyerahkan jawatan khalifah kepada Muawiyah bin Abu Sufian?
- A Takut kepada Muawiyah
 - B Mendapat bantahan ramai
 - C Tidak berminat menjadi khalifah
 - D Mengelakkan perpecahan umat Islam

- 12 Rajah berikut berkaitan dengan kerajaan Bani Umayyah.



Apakah X?

- A Sistem pentadbiran
- B Urusan surat-menyurat
- C Pengawal keselamatan
- D Jenis cukai yang dikenakan

- 13 Siapakah tokoh yang dikaitkan dengan maklumat berikut?

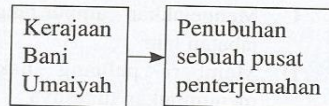
Sumbangan Kerajaan Bani Umayyah
• Membina hospital pertama di Damsyik
• Membina hospital penyakit Kusta

- I Umar bin Abdul Aziz
 - II Abdul Malik bin Malik
 - III Muawiyah bin Abu Sufian
 - IV al-Walid bin Abdul Malik
- A I dan II
B I dan IV
C II dan III
D III dan IV

- 14 Siapakah tokoh yang telah memperkenalkan sistem peredaran darah?
- A Galen
 - B Ibn Sina
 - C Ibn al-Nafis
 - D Ibn Zihat al-Zuhri

- 15 Apakah keistimewaan kerajaan Bani Umayyah di Cordova?
- I Mempunyai pusat pengajian tinggi
 - II Membina pusat terjemahan
 - III Membina bangunan Taj Mahal
 - IV Penubuhan Baitulmal
- A I dan II C II dan III
B I dan IV D III dan IV

- 16 Rajah berikut berkaitan dengan penubuhan pusat penterjemahan kerajaan Bani Umayyah.



Apakah kesan penubuhan pusat terjemahan tersebut?

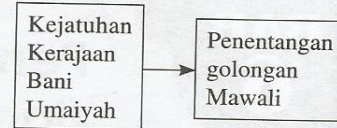
- A Terbinanya Masjid Cordova
- B Penubuhan 17 pusat pengajian tinggi
- C Masyarakat Islam mempelajari pelbagai ilmu
- D Kemunculan bandar-bandar ilmu di Cordova

- 17 Apakah sumbangan kerajaan Bani Umayyah di Cordova yang membolehkan pertanian berkembang maju?

- I Tanaman gilirian
 - II Sistem saliran
 - III Penyelidikan benih bermutu
 - IV Mesin untuk menyemai benih
- A I dan II
B I dan IV
C II dan III
D III dan IV

6.3 Kerajaan Bani Abbasiyah

- 18 Rajah berikut menunjukkan golongan yang menentang kerajaan Bani Umayyah.



Mengapakah golongan tersebut menentang pemerintahan kerajaan Bani Umayyah?

- I Tidak mendapat jawatan
 - II Dikenakan cukai yang tinggi
 - III Dianggap rakyat kelas kedua
 - IV Bukan berketurunan Arab
- A I dan II
B I dan IV
C II dan III
D III dan IV

- 19 Golongan berikut turut menyumbang kepada kejatuhan kerajaan Bani Umayyah.

- Syiah
- Khawarij

Bilakah golongan tersebut muncul?

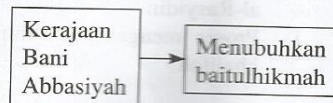
- A Selepas Perang Siffin
- B Semasa Kematian Uthman Bin Affan
- C Setelah kemerosotan kerajaan Bani Umayyah
- D Semasa bermulanya gerakan Abbasiyah

- 20 Apakah persamaan antara kedua-dua orang tokoh berikut?

- Abu Salamah al-Khalal
- Abu Muslim al-Khurasani

- A Pakar bahasa
- B Golongan Khawarij
- C Khalifah Kerajaan Abbasiyah
- D Mengetuai gerakan Bani Abbasiyah

- 21 Apakah peranan baitulhikmah dalam kerajaan berikut?



- A Pusat pengajian tinggi
- B Menterjemah karya sains
- C Tempat berbincang Majlis Syura
- D Pusat penyimpanan harta kerajaan

22 Jadual berikut menunjukkan dua orang tokoh zaman kegemilangan Bani Abbasiyah.

Zaman Keemasan Kerajaan Bani Abbasiyah	
Khalifah Harun al-Rasyid	Khalifah al-Makmun

Apakah yang menyebabkan zaman pemerintahan mereka dianggap sebagai Zaman Keemasan?

- A Kejayaan dalam Perang Salib
- B Kegiatan kesenian yang meluas
- C Kejayaan menakluki Constantinople
- D Kota Baghdad menjadi pusat perkembangan ilmu

23 Apakah punca kejatuhan kerajaan berikut?

Tarikh	Peristiwa
1258 Masihi	Berakhirnya pemerintahan Kerajaan Bani Abbasiyah

- A Serangan orang Aryan
- B Diserang oleh orang Mongol
- C Kekalahan dalam Perang Salib
- D Diusir oleh Raja Sepanyol

24 Kegiatan terjemahan pada zaman kerajaan Bani Abbasiyah telah menyebabkan berlakunya perkembangan keilmuan yang pesat.

Apakah bahasa yang menjadi teras kegiatan terjemahan ini?

- I Suriani
 - II Sanskrit
 - III Inggeris
 - IV Ideogram
- A I dan II C II dan III
B I dan IV D III dan IV

25 Pernyataan berikut berkaitan dengan kesan perkembangan Tamadun Islam.

Perkembangan Tamadun Islam di Kota Baghdad, Cordova dan tempat lain telah membuka mata masyarakat Eropah.

Apakah kesan perkembangan Tamadun Islam kepada masyarakat Eropah?

- A Berlaku Perang Salib
- B Melahirkan Zaman *Renaissance*
- C Mewujudkan mahzab Protestant
- D Kemunculan golongan monarki baharu

6.4 Kerajaan Turki Uthmaniyah

26 Apakah faktor keruntuhan kerajaan Turki Uthmaniyah?

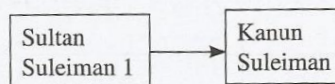
- I Keruntuhan sistem cukai
 - II Pertambahan penduduk
 - III Serangan orang Mongol
 - IV Pemberontakan orang Mawali
- A I dan II
B I dan IV
C II dan III
D III dan IV

27 Apakah faktor yang mewujudkan keadaan berikut?

Ramai ghazi dan pemimpin masyarakat bersatu di bawah Uthman bin Ertughrul dalam meluaskan kawasan penaklukannya.

- A Penaklukan kota Istanbul
- B Keruntuhan kerajaan Bani Abbasiyah
- C Kejayaan menumpaskan tentera Byzantine
- D Menjadi pelindung bandar suci Makkah dan Madinah

28 Apakah yang dapat dikaitkan dengan rajah berikut?



- I Menjaga kehormatan individu

II Membela nyawa tanpa mengira bangsa

III Menggunakan undang-undang yang keras dan tegas

IV Undang-undang yang mengikut hukum syariah Islam

- A I dan II
B I dan IV
C II dan III
D III dan IV

29 Empayar kerajaan Turki Uthmaniyah mampu bertahan hampir 600 tahun dan meliputi kawasan seluas kerajaan Uthmaniyah.

Apakah faktor kejayaan kerajaan tersebut?

I Pegangan akidah yang kukuh

II Pembinaan batalion tentera

III Eropah berada pada zaman gelap

IV Tentera mempunyai semangat ghazi

- A I dan II
B I dan IV
C II dan III
D III dan IV

30 Apakah peranan Sheikh-ul-Islam pada zaman kerajaan Turki Uthmaniyah?

A Ketua universiti Islam

B Mengeluarkan fatwa

C Ketua pasukan tentera

D Penasihat kepada sultan

31 Pernyataan berikut berkaitan dengan kesan dasar sosial Islam.

Dasar sosial Islam ini telah menarik minat orang Kristian untuk memeluk Islam semasa zaman kerajaan Turki Uthmaniyah

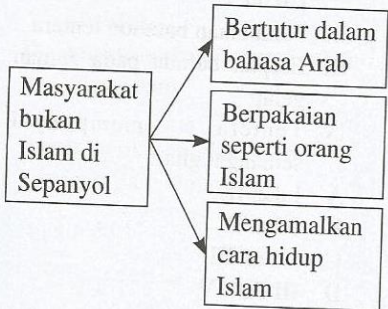
Apakah dasar sosial yang dimaksudkan?

- A Persamaan taraf
- B Berasaskan diplomasi
- C Kecemerlangan individu
- D Tidak membezakan keturunan

6.5 Pertembungan Tamadun Islam dengan Tamadun Lain di Dunia

- 32 Golongan manakah yang memainkan peranan penting dalam mempengaruhi kehidupan harian masyarakat Eropah sehingga ke pertengahan zaman *Renaissance*?
- A Ali Sufi
 - B Mudejar
 - C Mozarab
 - D Janissari

33 Rajah berikut berkaitan dengan golongan masyarakat bukan Islam di Sepanyol.



- Apakah golongan masyarakat yang dimaksudkan?
- A Mawali
 - B Mudejar
 - C Mozarab
 - D Mubaligh
- 34 Tokoh yang manakah terkenal dalam bidang ilmu mantik dan falsafah?
- I Ibn Sina
 - II al-Razi
 - III al-Mawardi
 - IV al-Zahrawi
- A I dan II
 - B I dan IV
 - C II dan III
 - D III dan IV

35 Senarai berikut merupakan adalah karya falsafah dan buku perubatan.

- *al-Mantiq*
- *Danesh Nameh*
- *Qanun*

Tokoh yang mengarang buku tersebut ialah

- A Ibn Rushd
 - B Ibn Sina
 - C al-Kindi
 - D al-Farabi
- 36 Mengapakah catatan yang dibuat oleh Ibn Battuta sepanjang penerokaannya amat dihargai oleh ahli sejarah?
- A Ketepatan fakta
 - B Lakaran peta
 - C Pengajaran agama
 - D Mata wang setiap negara
- 37 Manakah antara yang berikut merupakan keindahan seni bina yang direka oleh ketamadunan Islam?
- I Piramid di Mesir
 - II Istana Alhamra di Granada Sepanyol
 - III Masjid Sultan Ahmed di Istanbul
 - IV Taman tergantung Babylon di Baghdad
- A I dan II
 - B I dan IV
 - C II dan III
 - D III dan IV

